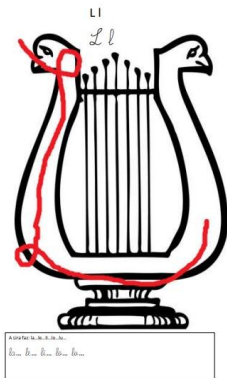



Ficha de trabalho "K" / "k"



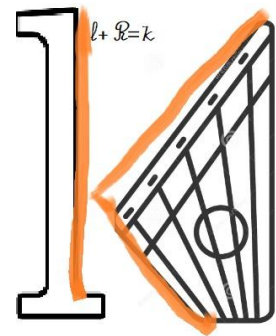
$$l + R = k$$




+



=



k



Leitura do texto:

Como surgiu a Kantele?

A kantele é muito pequena e toca Kantele na Finlândia. É muito parecida com uma harpa. Os grupos populares neste país tocam este instrumento e todos os meninos e meninas aprendem a tocá-lo desde o Jardim até ao máximo do saber da escolaridade. O meu professor disse, que as origens foram da Grécia Antiga, com a Lira e a Cítara. As pessoas ao verem os barcos com cordas no mar, lembraram-se de construir estes instrumentos. Mas a origem foi muito mais antiga, pois apareceu com o arco e a flecha, que se chama arco musical. Os homens quando iam caçar animais na floresta com arcos, ouviam o som da corda da flecha. Com esta ideia, fizeram estes instrumentos que nos ajudam a ser muito alegres e divertidos nas nossas vidas.

Ficha de trabalho “K”/”K”



1- Em que país se toca este instrumento musical?

2- Existe um país onde tem instrumentos parecidos. Como se chama esse país?



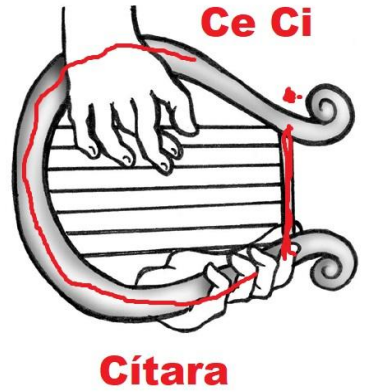
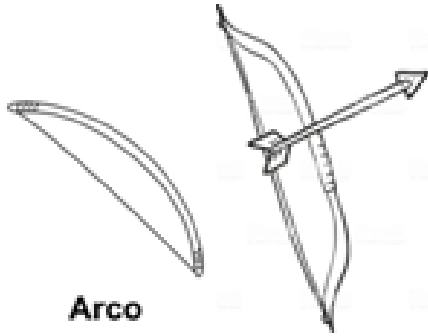
3- Como se chamavam os instrumentos da Grécia Antiga?

4- O que motivou os homens a construir os instrumentos?

AR ER IR OR UR

ar er ir or ur

Arco Musical



Existe desde 15000 a.c e foi daqui que nasceu a música...
o arco faz som com a corda ...com a caça nasceu a música
...O berimbau conhecido em outras culturas como malunga foi utilizado pelos escravos para comunicar de modo sigiloso.

Escreve uma frase para cada um dos instrumentos musicais.

Nome: _____ Data: ____/____/____

—

Pega nas notas dos instrumentos e nos seus sons (va, ve, vi, vo, vu) e forma palavras:

O Wilson levou a kantele ao tio da Yasmine.

O Wilson levou a kantele ao tio da Yasmine.

Diagram illustrating musical notation and rhythm. It shows two groups of notes in ovals. The first group contains six notes: a quarter note, an eighth note pair, a quarter note, a quarter note, a quarter note, and a quarter note. The second group contains two notes: a quarter note and an eighth note pair. Below the first group is a box, and below the second group is another box. A minus sign is between the boxes, and an equals sign is to the right of the second box, followed by a third empty box.

Com lápis reproduz o ritmo e resolve o resultado.

Coloca o nome dos instrumentos musicais debaixo da bandeira dos seus países e menciona o seu continente:



*Exemplo: Instrumento Wandindi
País: Quênia
Continente: Africano*

Nome: _____ Data: ____/____/____







Nome: _____ Data: ____/____/____



Mapa do mundo



Marca no mapa um círculo os países das bandeiras anteriores.

Copia e lê as frases:

A Yasmine treina yoga no jardim do pátio e tio Yen toca Yueqin.

O Wagner fez uma música para tocar na Kantele.

O Kelvin gosta de karatê e deu um golpe muito correto na Kelly.
